

Вариант № 207854

1. **Задание 1 № 1032.** В одной из кодировок Unicode каждый символ кодируется 16 битами. Определите размер следующего предложения в данной кодировке. Слово **не воробей, вылетит — не поймаешь!**

- 1) 40 байт
- 2) 78 байт
- 3) 80 байт
- 4) 80 бит

Источник: СтатГрад: Тренировочная работа по информатике 20.11.14 вариант ИН90102.

2. **Задание 2 № 1033.** Для какой из перечисленных ниже фамилий русских писателей и поэтов истинно высказывание:

НЕ (количество гласных букв нечётно) И НЕ (первая буква согласная)?

- 1) Есенин
- 2) Одоевский
- 3) Толстой
- 4) Фет

Источник: СтатГрад: Тренировочная работа по информатике 20.11.14 вариант ИН90102.

3. **Задание 3 № 1034.** Машинист электропоезда должен добраться из пункта А в пункт С за 4 часа. Из представленных таблиц выберите такую, согласно которой машинист сможет доехать из пункта А в пункт С за это время. В ячейках таблицы указано время (в часах), которое занимает дорога из одного пункта в другой. Передвигаться можно только по дорогам, указанным в таблицах.

1)

	A	B	C	D
A		4	8	1
B	4		3	
C	8	3		
D	1			

3)

	A	B	C	D
A		8		3
B	8		3	
C		3		4
D	3		4	

2)

	A	B	C	D
A				2
B				4
C				6
D	2	4	6	

4)

	A	B	C	D
A		1		8
B	1			2
C				1
D	8	2	1	

Источник: СтатГрад: Тренировочная работа по информатике 20.11.14 вариант ИН90102.

4. **Задание 4 № 1035.** Дима хотел послушать музыку на компьютере, для этого ему нужно было включить музыкальный файл **Белые_розы.mp3**. Он начал работу с каталога **C:\Музыка\Хиты**. Сначала он спустился на один уровень вниз, в каталог **Ретро**, затем поднялся на один уровень вверх, потом спустился на один уровень в каталог **Лучшие**, после чего спустился в каталог **Про_цветы** и нашёл там нужный музыкальный файл. Запишите полный путь к данному файлу.

- 1) C:\Белые_розы.mp3
- 2) C:\Музыка\Хиты\Ретро\Про_цветы\Белые_розы.mp3
- 3) C:\Музыка\Хиты\Лучшие\Про_цветы\Белые_розы.mp3
- 4) C:\Про_цветы\Белые_розы.mp3

Источник: СтатГрад: Тренировочная работа по информатике 20.11.14 вариант ИН90102.

5. **Задание 5 № 1036.**

Дан фрагмент электронной таблицы.

	A	B	C	D
1	3		6	4
2	=D1-1	=B1/6	=A1	=C1/2



Какое из перечисленных ниже чисел должно быть записано в ячейке B1, чтобы построенная после выполнения вычислений диаграмма по значениям диапазона ячеек A2:D2 соответствовала рисунку?

- 1) 1
- 2) 6

- 3) 12
- 4) 18

Источник: СтатГрад: Тренировочная работа по информатике 20.11.14 вариант ИН90102.

6. **Задание 6 № 1037.** Исполнитель Черепашка перемещается на экране компьютера, оставляя след в виде линии. В каждый конкретный момент известно положение исполнителя и направление его движения. У исполнителя существует две команды: **Вперёд n** (где n — целое число), вызывающая передвижение Черепашки на n шагов в направлении движения; **Направо m** (где m — целое число), вызывающая изменение направления движения на m градусов по часовой стрелке. Запись **Повтори k [Команда1 Команда2 Команда3]** означает, что последовательность команд в скобках повторится k раз.

При выполнении какого из перечисленных ниже алгоритмов на экране появился правильный шестиугольник?

- 1) Повтори 6 [Вперёд 100 Направо 90]
- 2) Повтори 6 [Вперёд 100 Направо 9]
- 3) Повтори 6 [Вперёд 100 Направо 60 Направо 60]
- 4) Повтори 6 [Вперёд 100 Направо 20 Направо 40]

Источник: СтатГрад: Тренировочная работа по информатике 20.11.14 вариант ИН90102.

7. **Задание 7 № 1038.** Мальчики, играя в пиратов, придумали свой собственный шифр и передавали с помощью него друг другу сообщения. Ниже представлено одно из них. В сообщении присутствуют только буквы из приведённого фрагмента кодовой таблицы.

С	В	И	Т	Е	Р
!!?	!!	!?	???	?!	!!!

Определите, какое сообщение закодировано в строчке **!!!?????!**. В ответе запишите последовательность букв без запятых и других знаков препинания.

Источник: СтатГрад: Тренировочная работа по информатике 20.11.14 вариант ИН90102.

8. Задание 8 № 1039. В программе «:=» обозначает оператор присваивания, знаки «+», «-», «*» и «/» – соответственно операции сложения, вычитания, умножения и деления. Правила выполнения операций и порядок действий соответствует правилам арифметики.

Определите значение переменной *e* после выполнения данного алгоритма:

```
f := 21
e := 10
f := 5*f+5
e := f-10-e*5
```

В ответе укажите одно целое число — значение переменной *e*.

Источник: СтатГрад: Тренировочная работа по информатике 20.11.14 вариант ИН90102.

9. Задание 9 № 1040. Запишите значение переменной *u*, полученное в результате работы следующей программы. Текст программы приведён на трёх языках программирования.

Алгоритмический язык	Бейсик	Паскаль
алг нач цел <i>u, i</i> $u := 26$ нц для <i>i</i> от 1 до 5 $u := u - i$ кц вывод <i>u</i> кон	DIM <i>i, u</i> AS INTEGER $u = 26$ FOR <i>i</i> = 1 TO 5 $u = u - i$ NEXT <i>i</i> PRINT <i>u</i>	Var <i>u, i</i> : integer; Begin $u := 26;$ For <i>i</i> := 1 to 5 do $u := u - i;$ Writeln(<i>u</i>); End.

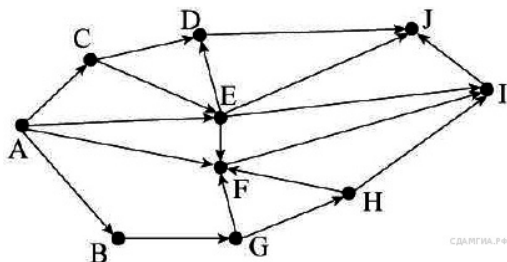
Источник: СтатГрад: Тренировочная работа по информатике 20.11.14 вариант ИН90102.

10. Задание 10 № 1041. Известная авиакомпания заносила данные о количестве утерянного багажа за год в таблицу Lose. Всего были занесены данные за последние 10 лет работы компании (Lose[1] — количество утерянного багажа за первый год работы, Lose[2] — за второй год и т. д.). Определите, какое число будет напечатано в результате работы следующей программы. Текст программы приведён на трёх языках программирования.

Алгоритмический язык	Бейсик	Паскаль
алг нач целтаб Lose[1:10] цел <i>t, m</i> $Lose[1] := 1; Lose[2] := 5$ $Lose[3] := 3; Lose[4] := 6$ $Lose[5] := 7; Lose[6] := 12$ $Lose[7] := 1; Lose[8] := 3$ $Lose[9] := 3; Lose[10] := 1$ $m = 0$ нц для <i>t</i> от 1 до 10 если $Lose[t] < 6$ то $m := m + Lose[t]$ все кц вывод <i>m</i> кон	DIM Lose(10) AS INTEGER DIM <i>t, m</i> AS INTEGER Lose(1)= 1: Lose(2)= 5 Lose(3)= 3: Lose(4)= 6 Lose(5)= 7: Lose(6)= 12 Lose(7)= 1: Lose(8)= 3 Lose(9)= 3: Lose(10)= 1 m = 0 FOR <i>t</i> = 1 TO 10 IF Lose(<i>t</i>) < 6 THEN $m = m + Lose(t)$ END IF NEXT <i>k</i> PRINT <i>m</i>	Var <i>t, m</i> : integer; Lose: array[1..10] of integer; Begin Lose[1] := 1; Lose[2] := 5; Lose[3] := 3; Lose[4] := 6; Lose[5] := 7; Lose[6] := 12; Lose[7] := 1; Lose[8] := 3; Lose[9] := 3; Lose[10] := 1; m := 0; For <i>t</i> := 1 to 10 Do If Lose[<i>t</i>] < 6 Then Begin $m := m + Lose[t];$ End; Writeln(<i>m</i>); End.

Источник: СтатГрад: Тренировочная работа по информатике 20.11.14 вариант ИН90102.

11. Задание 11 № 1042. На рисунке — схема дорог, связывающих города А, В, С, D, E, F, G, H, I, J. По каждой дороге можно двигаться только в одном направлении, указанном стрелкой. Сколько существует различных путей из города А в город J?



Источник: СтатГрад: Тренировочная работа по информатике 20.11.14 вариант ИН90102.

12. Задание 12 № 1043. Ниже в табличной форме представлен фрагмент базы данных «Товары».

Товар	Кол-во (кг)	Стоимость (1 кг)	Упаковка
Макароны	11	50	Есть
Мясо	20	200	Нет
Хлеб	6	30	Нет
Соль	30	20	Есть
Масло	15	60	Есть
Конфеты	11	100	Есть
Вафли	4	150	Нет
Сахар	30	70	Нет

Сколько товаров в данном фрагменте удовлетворяют условию

(Стоимость(1 кг) < 60) И (Упаковка = «Нет»)?

В ответе укажите одно число — искомое количество товаров.
Источник: СтатГрад: Тренировочная работа по информатике 20.11.14 вариант ИН90102.

13. Задание 13 № 1044. Переведите число 62 из десятичной системы счисления в двоичную систему счисления. В ответе напишите полученное число.

Источник: СтатГрад: Тренировочная работа по информатике 20.11.14 вариант ИН90102.

14. Задание 14 № 1045. У исполнителя Умножитель две команды, которым присвоены номера:

1. умножь на 3
2. вычти 1

Первая из них умножает число на 3, вторая — вычитает из числа 1. Исполнитель работает только с натуральными числами. Составьте алгоритм получения из числа 8 числа 61, содержащий не более 5 команд. В ответе запишите только номера команд.

(Например, 22112 — это алгоритм:

вычти 1

вычти 1

умножь на 3

умножь на 3

вычти 1

который преобразует число 5 в 26.

Если таких алгоритмов более одного, то запишите любой из них.

Источник: СтатГрад: Тренировочная работа по информатике 20.11.14 вариант ИН90102.

15. Задание 15 № 1046. Файл размером 3 Мбайт передаётся через некоторое соединение за 5 минут. Определите время (в минутах), за которое можно передать через это же соединение файл размером 6144 Кбайт. В ответе укажите одно число — количество минут. Единицы измерения писать не нужно.

Источник: СтатГрад: Тренировочная работа по информатике 20.11.14 вариант ИН90102.

16. Задание 16 № 1047. Автомат получает на вход четырёхзначное десятичное число. По полученному числу строится новое десятичное число по следующим правилам.

1. Вычисляются два числа — сумма первой и второй цифр и сумма третьей и четвёртой цифр заданного числа.

2. Полученные два числа записываются друг за другом в порядке невозрастания (без разделителей).

Пример. Исходное число: 2177. Поразрядные суммы: 3, 14. Результат: 143.

Определите, сколько из приведённых ниже чисел могут получиться в результате работы автомата.

1119 110 201 20 1112 1211 1911 121 1111

В ответе запишите только количество чисел.

Источник: СтатГрад: Тренировочная работа по информатике 20.11.14 вариант ИН90102.

17. Задание 17 № 1048. Доступ к файлу **books.xls**, находящемуся на сервере **biblio.com**, осуществляется по протоколу **http**. Фрагменты адреса файла закодированы буквами от А до Ж. Запишите последовательность этих букв, кодирующую адрес указанного файла в сети Интернет.

- А) /
- Б) biblio.
- В) ://
- Г) http
- Д) com
- Е) .xls
- Ж) books

Источник: СтатГрад: Тренировочная работа по информатике 20.11.14 вариант ИН90102.

18. Задание 18 № 1049. Приведены запросы к поисковому серверу. Для каждого запроса указан его код — соответствующая буква от А до Г. Запишите в таблицу коды запросов слева направо в порядке убывания количества страниц, которые нашёл поисковый сервер по каждому запросу. По всем запросам было найдено разное количество страниц. Для обозначения логической операции «ИЛИ» в запросе используется символ «|», а для логической операции «И» — символ «&».

Код	Запрос
А	(Париж & Москва) Прага
Б	Париж Москва Прага
В	(Париж Москва) & Прага

Источники: СтатГрад: Тренировочная работа по информатике
20.11.14 вариант ИН90102.

19. Задание 19 № 1050. На метеостанции данные о погоде занесли в электронную таблицу. Ниже приведены первые пять строк таблицы, в которую были занесены данные о погоде в период с января 2013 года по январь 2014 года.

	А	В	С	Д	Е
1	Дата	Температура, °С	Атм. давление, мм рт. ст.	Скорость ветра, м/с	Облачность, %
2	01.01.2013	−0,3	746	1	100
3	02.01.2013	0,5	746	1	100
4	03.01.2013	−2	744	1	100
5	04.01.2013	0,8	740	1	100
6	05.01.2013	−0,8	741	1	100

Каждая строка таблицы содержит запись о погоде одного дня. В столбце А записана дата; в столбце В – температура воздуха; в столбце С — атмосферное давление; в столбце Д — скорость ветра; в столбце Е — облачность. Всего в электронную таблицу были занесены данные о погоде за 396 дней.

[task19.xls](#)

Выполните задание.

Откройте файл с данной электронной таблицей. На основании данных, содержащихся в этой таблице, ответьте на два вопроса.

1. Сколько дней за приведённый период температура была ниже – 10 °С? Ответ на этот вопрос запишите в ячейку Н2 таблицы.
2. Какова средняя скорость ветра в дни с облачностью менее 80%? Ответ на этот вопрос с точностью не менее двух знаков после запятой запишите в ячейку Н3 таблицы.

Источник: СтатГрад: Тренировочная работа по информатике
20.11.14 вариант ИН90102.

20. Задание 20 № 1051. Выберите ОДНО из предложенных ниже заданий: 20.1 или 20.2.

20.1 Исполнитель Робот умеет перемещаться по лабиринту, начерченному на плоскости, разбитой на клетки. Между соседними (по сторонам) клетками может стоять стена, через которую Робот пройти не может.

У Робота есть девять команд. Четыре команды — это команды-приказы:

вверх вниз влево вправо

При выполнении любой из этих команд Робот перемещается на одну клетку соответственно: вверх ↑ вниз ↓, влево ←, вправо →. Если Робот получит команду передвижения сквозь стену, то он разрушится.

Также у Робота есть команда **закрасить**, при которой закрашивается клетка, в которой Робот находится в настоящий момент.

Ещё четыре команды — это команды проверки условий. Эти команды проверяют, свободен ли путь для Робота в каждом из четырёх возможных направлений:

сверху свободно снизу свободно слева свободно справа свободно

Эти команды можно использовать вместе с условием «если», имеющим следующий вид:

если условие то
последовательность команд
все

Здесь *условие* — одна из команд проверки условия. *Последовательность команд* — это одна или несколько любых команд-приказов. Например, для передвижения на одну клетку вправо, если справа

нет стенки, и закрашивания клетки можно использовать такой алгоритм:

если справа свободно то
вправо
закрасить
все

В одном условии можно использовать несколько команд проверки условий, применяя логические связки **и**, **или**, **не**, например:

если (справа свободно) и (не снизу свободно) то
вправо
все

Для повторения последовательности команд можно использовать цикл «пока», имеющий следующий вид:

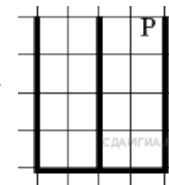
нц пока условие
последовательность команд
кц

Например, для движения вправо, пока это возможно, можно использовать следующий алгоритм:

нц пока справа свободно
вправо
кц

Выполните задание.

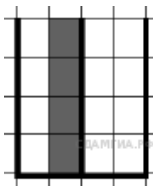
На бесконечном поле имеется стена, длины отрезков стены неизвестны. Стена состоит из одного горизонтального и трёх равных вертикальных отрезков (отрезки стены расположены буквой «Ш»). Все отрезки неизвестной длины. Робот находится в клетке, расположенной непосредственно справа от верхнего конца левого вертикального отрезка.



На рисунке указан один из возможных способов расположения стен и Робота (Робот обозначен буквой «Р»).

Напишите для Робота алгоритм, закрашивающий все клетки, расположенные непосредственно слева от второго вертикального отрезка. Робот должен закрасить только клетки, удовлетворяющие данному условию. Например, для приведённого выше рисунка Робот должен закрасить следующие клетки (см. рисунок).

Конечное расположение Робота может быть произвольным. При выполнении алгоритма Робот не должен разрушиться. Алгоритм должен решать задачу для произвольного размера поля и любого допустимого расположения стен.



Алгоритм может быть выполнен в среде формального исполнителя или записан в текстовом редакторе.

20.2 Напишите программу, которая в последовательности натуральных чисел определяет сумму всех чисел, кратных 6 и оканчивающихся на 6. Программа получает на вход натуральные числа, количество введённых чисел неизвестно, последовательность чисел заканчивается числом 0 (0 – признак окончания ввода, не входит в последовательность). Количество чисел не превышает 100. Введённые числа не превышают 300. Программа должна вывести одно число: сумму всех чисел, кратных 6 и оканчивающихся на 6.

Пример работы программы:

--	--

Входные данные	Выходные данные
36	102
12	
16	
66	
11	
0	

Источник: СтатГрад: Тренировочная работа по информатике 20.11.14 вариант ИН90102.